
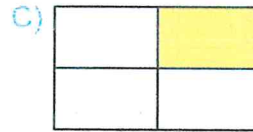
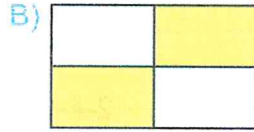
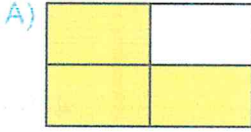


## TÜRKÇE TESTİ

1. Bera, aşağıdaki tabloda karşılaştırma yapılan cümlelerin bulunduğu kutuları sarı renge boyamıştır.

Kalemi, benim kalemimin aynısıydı.	Çiçekleri sulanmadığından kurumuş.
Kitap okumada senin gibisini görmedim.	Önceki yıldan daha soğuk bir kış yaşadık.

Buna göre Bera aşağıdaki şekillerin hangisini elde eder?



2. Aşağıda Beyza'nın tahtaya yazdığı cümle verilmiştir. Beyza cümleyi tahtaya yazarken yazım yanlışı yapmıştır.



Buna göre Beyza'nın yaptığı yazım yanlışının aynısı aşağıdaki cümlelerin hangisinde yapılmıştır?

- A) Ahmet bir haftadan beri okula hiç gelmedi ki!  
 B) Ayağındaki çorapları çıkarıp kirli sepetine attı.  
 C) Efe odasında ki oyuncakların hepsini toplamış.  
 D) Derslerine çalışmadı ki sınavlarda başarılı olsun.

3. Aşağıda kurabiye'nin yapılışının işlem basamakları karışık olarak verilmiştir.

1. Fırın tepsisine bu topları yerleştirip yarım saat dinlendirin.
2. Yoğrulmuş hamurdan ceviz büyüklüğünde toplar yapın.
3. Önceden ısıtılmış fırında 150 derecede kurabiye'nizi pişirin.
4. Kurabiye hamuru için gerekli malzemeleri bir kaba koyarak yoğurun.



Kurabiye'nin yapılışının işlem basamaklarının doğru sıralanışı aşağıdakilerin hangisinde verilmiştir?

A) 4-2-1-3

B) 4-2-3-1


C) 2-4-1-3


D) 4-1-2-3

4. Pekiştirme bir sözcüğe, o sözcüğün anlamını güçlendirmek için belli kurallar çerçevesinde çeşitli eklemelerin yapılması veya sözcüğün tekrarlanmasıdır.


Yüzüstü yere düşen çocuğun suratı kıpkırmızı olmuştu.
Fırtına bahçedeki sapasağlam ağaçları altüst etmiş.
Karşıdan karşıya geçerken babasının elini sımsıkı tutuyordu.
Ablam çamurlanan ayakkabılarımı tertemiz yapmış.

Yukarıdaki cümlelerin hangisinde farklı bir pekiştirme yapılmıştır?

A) 

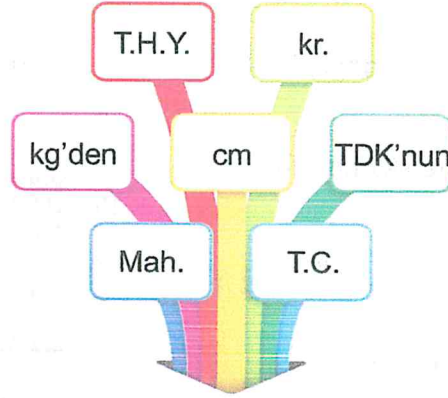
B) 

C) 

D) 

## TÜRKÇE TESTİ

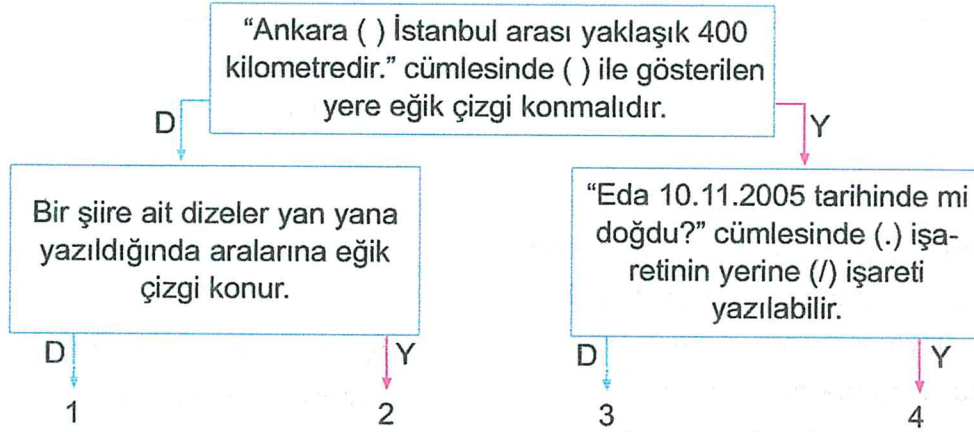
5. Bir kelimenin, terimin veya özel adın, içerdiği harflerden biri veya birkaçı ile daha kısa olarak ifade edilmesi ve simgeleştirilmesine kısaltma denir.



Buna göre yukarıda verilen kısaltmaların kaç tanesinin yazımında yanlışlık yapılmıştır?

- A) 2 B) 3 C) 4 D) 5

6.



Yukarıdaki şemada verilen ifadeleri doğru cevaplayan bir öğrenci kaç numaralı çıkışa ulaşır?

- A) 1 B) 2 C) 3 D) 4

7. Bir sözcüğün gerçek anlamından tamamen uzaklaşarak kazandığı yeni anlamına mecaz anlam denir.

**Cem** : Bu sandalye pek sağlam değil, kırılmak üzere.

**Elif** : Elif, arkadaşının söylediklerine fena bozuldu.

**Ayşe** : Ali, çevresindekilere her zaman doğruyu söyler.

**Ali** : Çöp kutusundan etrafa keskin bir koku yayılıyordu.

**Buna göre öğrencilerden hangilerinin söylediği cümlelerde mecaz anlamlı sözcük kullanılmıştır?**

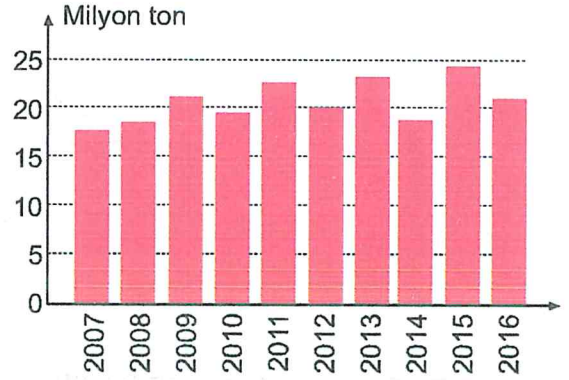
- A) Ayşe ve Cem  
B) Ali ve Elif  
C) Elif ve Ayşe  
D) Cem ve Ali

8. Uzak diyarların birinde yemyeşil bir orman varmış. Bu ormanda birçok hayvan birlikte mutlu mesut yaşar, beraber oyunlar oynarlarmış. Bu ormanda bir de sivrisinek varmış. Bu sivrisinek kendisini ormanın kralı sanır ve herkese yüksekte hitap edermiş. Her önüne gelene ben sizin kralınızım dermiş. Böyle yaparak görebileceği herkese kafa tutarmış.

**Bu metinde aşağıdaki hikâye unsurlarından hangisi yoktur?**

- A) Yer  
B) Olay  
C) Kişi  
D) Zaman

9. Aşağıdaki grafikte ülkemizde 2007-2016 yılları arasındaki buğday üretimi gösterilmiştir.



**Yukarıdaki grafiğe göre aşağıdaki bilgilerden hangisi söylenemez?**

- A) En fazla buğday 2015 yılında üretilmiştir.  
B) 2012 yılında 20 milyon ton buğday üretilmiştir.  
C) Her yıl 15 milyon tonun üzerinde buğday üretilmiştir.  
D) 2010 yılında, 2016 yılından daha fazla buğday üretilmiştir.

10. Aşağıda aynı sınıfta okuyan Efe ve Can'ın özellikleri karşılaştırılmıştır.

- I. Can, Efe'den daha uzun boyludur.  
II. Efe, Can'dan daha kiloludur.  
III. Can sinirli, Efe sakin ve uysal biridir.  
IV. Can siyah, Efe kahverengi gözlüdür.

**Buna göre yukarıdaki cümlelerin hangisinde Efe ve Can'ın farklı bir özelliği karşılaştırılmıştır?**

- A) I  
B) II  
C) III  
D) IV

4

Bu teste 15 soru vardır.

Cevaplarınızı cevap kağıdının Matematik Testi bölümüne işaretleyiniz.

B

## MATEMATİK TESTİ

1. Bir bakkal, 696 kg toz şekeri hiç artmayacak bir şekilde 50 kg, 10 kg ve 3 kg'lık poşetlere dolduracaktır.

Bunun için bakkala **en az** kaç poşet gerekir?

- A) 19 B) 17 C) 15 D) 13

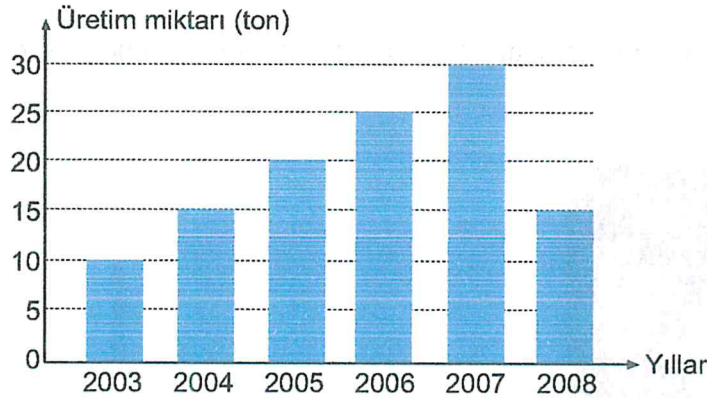
2. Aşağıda Selim'in hafta sonu yaptığı yürüyüş ile ilgili bilgiler verilmiştir.

- Selim saatte 6 km yürüyebilmektedir.
- Selim hafta sonu 30 km yürüyüş yapmıştır.
- Her 6 km'de 30 dakika dinlenmiştir.
- Selim yürüyüşüne saat 10.00'da başlamıştır.

Buna göre Selim yürüyüşünü tamamladığında saat kaçtır?

- A) 16.30 B) 17.00 C) 17.30 D) 18.00

3. Aşağıdaki grafik bir çiftçinin 2003-2008 yılları arasındaki kavun üretimini göstermektedir.



Grafığe göre aşağıdakilerden hangisi **yanlıştır**?

- A) 2004 ile 2008 yıllarında üretilen kavun miktarı birbirine eşittir.  
 B) Kavun üretiminin en fazla olduğu yıl 2007, en az olduğu yıl 2003'tür.  
 C) 2003'te üretilen kavun miktarı, 2006'da üretilen kavun miktarından 10 ton daha azdır.  
 D) 2007'de üretilen kavun miktarı, 2005 ile 2003'te üretilen kavun miktarlarının toplamına eşittir.


4. Berk aşağıdaki şekilde verilen kareleri boyayarak küp oluşturacak açınımlar elde etmek istiyor.



1	2	3
4	5	6
7	8	9
10	11	12

Berk aşağıda verilenlerden hangisini boyarsa bir küpe ait açınım elde **etmez**?

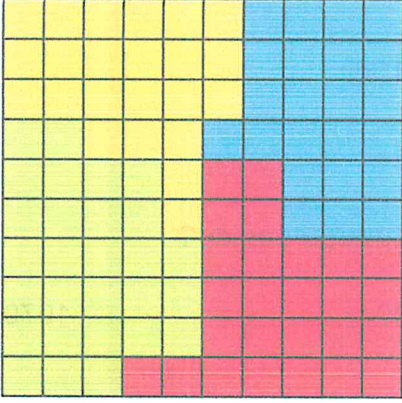
- A) 1-2-3-5-8-11      B) 2-3-5-8-11-12      C) 2-5-6-8-10-11      D) 2-4-5-8-9-11
5. Dört basamaklı üç farklı tek sayının toplamı 8979'dur.  
Bu sayıların en büyüğü **en fazla** kaç olabilir?
- A) 6979      B) 6975      C) 6973      D) 6971
6. Yeliz Öğretmen, tahtaya çizdiği şeklin simetriğini oluşturabilmek için kaç birim çizilmesi gerektiğini öğrencilere sormuştur.



Buna göre öğretmenin sorusunun doğru cevabı aşağıdakilerden hangisidir?

- A) 10      B) 11      C) 12      D) 13

7. Birim karelere ayrılmış kâğıdın tamamı aşağıdaki gibi boyanmıştır.




Buna göre hangi renkle gösterilen birim karelerin alanları birbirine eşittir?

- A) Kırmızı-yeşil      B) Yeşil-mavi      C) Sarı-mavi      D) Sarı-kırmızı
8. Bir elektrikçi elindeki elektrik kablosunu 6 eşit parçaya bölüp, böldüğü parçalardan birinin  $\frac{2}{7}$ 'si'ni satıyor. Elektrikçinin sattığı parçanın uzunluğu 350 cm'dir.

Buna göre elektrik kablosunun kesilmeden önceki uzunluğu ne kadardır?

- A) 12 m 25 cm      B) 24 m 50 cm      C) 52 m 50 cm      D) 73 m 50 cm
9. Aşağıdaki ABCD karesi, dokuz eş kareden oluşmuştur. ABCD karesinin çevresi 216 cm'dir.



Buna göre boyalı karelerden oluşan bölgenin çevresi kaç cm'dir?

- A) 180      B) 198      C) 216      D) 234

10. Aşağıda Emre'nin aklında tuttuğu 6 basamaklı sayı ile ilgili bilgiler verilmiştir.

- Altı basamaklı tek sayıdır.
- Birler bölümündeki rakamların basamak değerleri toplamı 41'dir.
- On binler basamağında 7 rakamı vardır.
- Binler bölümündeki rakamların sayı değerleri toplamı 8'dir.

Buna göre aşağıdaki sayılardan hangisi Emre'nin aklında tuttuğu sayıdır?

- A) 271041      B) 171411      C) 170041      D) 107041

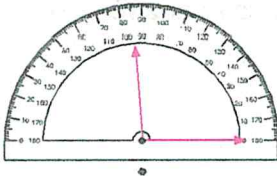
11. Aşağıda bir manavın üç aylık kavun satışı ile ilgili bilgiler verilmiştir.

- Haziran ayında temmuz ayından 235 fazla kavun satmıştır.
- Temmuz ayında ağustos ayından 547 daha fazla kavun satmıştır.
- Ağustos ayında sattığı kavun sayısı 2349'dur.

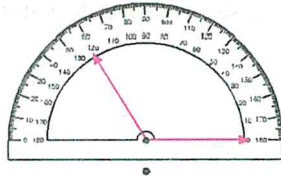
Buna göre manav üç ayda toplam kaç kavun satmıştır?

- A) 5245      B) 5480      C) 6027      D) 8376

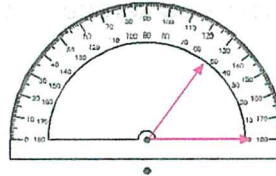
12. Ahmet aşağıdaki iletkilerle ölçülen açıları dereceleriyle eşleştirecektir.



122°

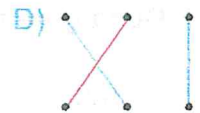
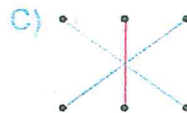
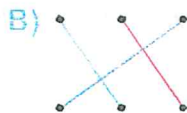
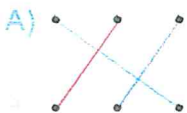


53°




95°

Buna göre Ahmet aşağıdaki şekillerden hangisini elde eder?






13. Aşağıda öğrencilerin yaptığı çarpma işlemleri verilmiştir.



$$(9 \times 7) \times 11 = \text{🍓} \times (11 \times 9)$$



$$(12 \times \text{🍓}) \times \text{🍊} = 12 \times (\text{🍓} \times 6)$$

Öğrencilerin yaptığı çarpma işlemlerine göre 🍓 x 🍊 kaçtır?

A) 42

B) 54

C) 66

D) 77

14. Aşağıda bazı bilgiler verilmiştir.

- 4 kilogram zeytinden 1 kilogram zeytinyağı çıkmaktadır.
- Zeytinin kilogramı 25 TL'dir.

Buna göre 15 kilogram zeytinyağı için kaç liralık zeytin almak gerekir?

A) 375

B) 400

C) 600

D) 1500

15. Aşağıda bir lale bahçesindeki laleler hakkında bilgiler verilmiştir.

- Lale bahçesindeki lalelerin  $\frac{2}{12}$  'si sarı renklidir.
- Lale bahçesindeki lalelerin  $\frac{4}{12}$  'si beyaz renklidir.
- Lale bahçesindeki lalelerin  $\frac{6}{12}$  'si kırmızı renklidir.
- Lale bahçesinde 240 lale vardır.

Buna göre aşağıda verilenlerden hangisi **yanlıştır**?

- A) Beyaz renkli lalelerin sayısı 80'dir.
- B) Lale bahçesinde en az sarı renkli lale vardır.
- C) Lale bahçesindeki lalelerin yarısı kırmızı renklidir.
- D) Beyaz lalelerin sayısı, sarı lalelerin sayısından 30 fazladır.

4

Bu testte 10 soru vardır.

Cevaplarınızı cevap kağıdının Fen Bilimleri Testi bölümüne işaretleyiniz.

B

## FEN BİLİMLERİ TESTİ

1. Cengiz, aşağıdaki tabloda mıknatıs tarafından çekilen maddelerin yazdığı kutucukları yeşil renge, suyu emen maddelerin yazdığı kutucukları mavi renge boyayacaktır.

Naylon poşet	Kağıt	Yağmurluk
Pamuk	Cam bilye	Toplu iğne
Demir çivi	Sünger	Plastik top

Buna göre Cengiz'in boyadığı tablo hangi şekilde olur?

A)


B)


C)


D)


2. Ortamın şekline, büyüklüğüne, aydınlanma ihtiyacına göre seçilen ve göz sağlığını olumsuz etkilemeyecek şekilde yapılan aydınlatmaya uygun aydınlatma adı verilir.

Uygun aydınlatmada;

- I. Beyaz ışık yerine sarı ışıklı aydınlatma araçları tercih edilmelidir.
- II. Aydınlatma aracından çıkan ışık, doğrudan gözümüze gelmemelidir.
- III. Sokak lambaları ışığı çok fazla dağıtmayacak şekilde düzenlenmelidir.
- IV. Sol elle yazı yazıyorsak masa lambasının ışığı sol taraftan gelmelidir.

Buna göre uygun aydınlatma ile ilgili verilen bilgilerden hangileri doğrudur?

A) II ve III

B) II ve IV

C) I ve III

D) I ve IV



6. Elektrik evlerimizde ve iş yerlerimizde kullandığımız en temel kaynaklarımızdan birisidir. Hayatımızın birçok alanında kullandığımız bir kaynaktır. Elektrik kaynakları sınırsız değildir. İstisna edildiğinde kısa bir süre içinde tükenir. Bu nedenle elektrik kaynaklarını tasarruflu kullanmalıyız.

**Yukarıda verilen bilgilere göre;**

- I. Elektrik kaynakları tükenir.
- II. Elektrik kaynakları tasarruflu kullanılmalıdır.
- III. Elektrik çok sınırlı alanda kullandığımız bir kaynaktır.

**sonuçlarından hangilerine ulaşılabilir?**

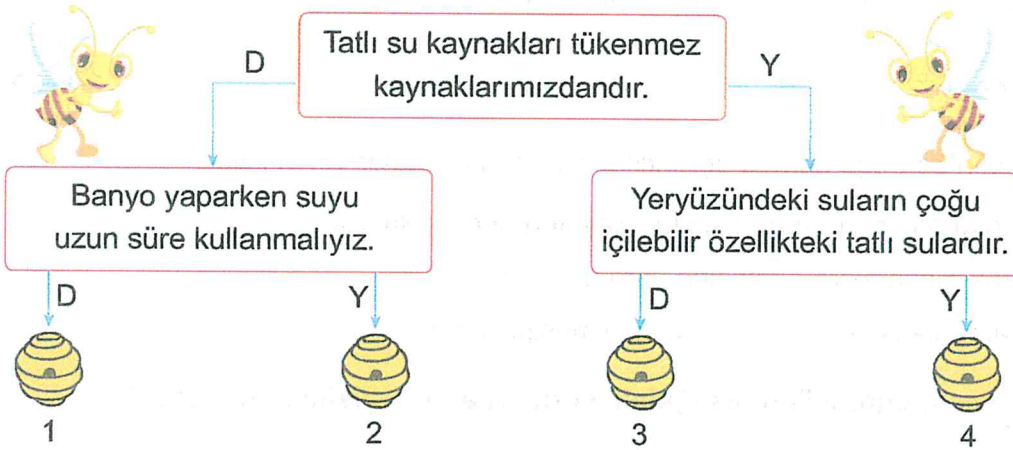
A) I ve II

B) II ve III

C) I ve III

D) I, II ve IV

7. Aşağıda temel yaşam kaynaklarımızdan biri olan su ile ilgili bilgiler verilmiştir.



**Verilen bilgiler doğru ise "D", yanlış ise "Y" şeklinde ilerlendiğinde arı kaç numaralı kovana ulaşır?**

A) 1

B) 2

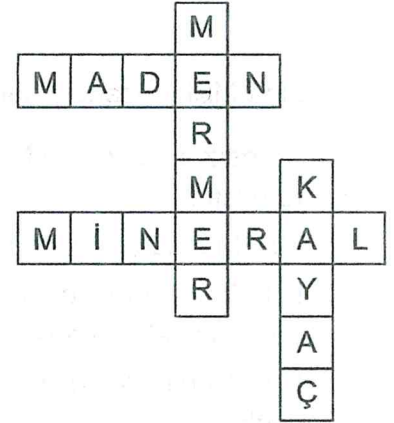
C) 3

D) 4

8. Yer kabuğunu oluşturan yapılarla ilgili yandaki bulmaca hazırlanmıştır.

Bulmacada aşağıdaki sorulardan hangisinin cevabı **yoktur**?

- A) Ekonomik değeri yüksek olan kayaçlardır.  
 B) Kayaçların yapısını oluşturan maddelerdir.  
 C) Mutfak tezgâhı yapımında kullanılan madendir.  
 D) Bilezik yapımında kullanılan değerli bir madendir.



9. Beden eğitimi dersinde voleybol oynarken yorulan ve çok enerji harcayan Ezgi, harcadığı enerjiyi geri almak için karbonhidrat oranı yüksek besinler almak istiyor.



Buna göre Ezgi'nin yukarıdaki besinlerden **öncelikli** olarak hangilerini alması gerekir?

- A) Ceviz, zeytin, et  
 B) Et, yumurta, peynir  
 C) Pirinç, makarna, ekmek  
 D) Portakal, mandalina, yumurta

10. Kuvvet, cisimlerin hareket durumlarını ya da şeklini değiştiren bir etkidir.

- Kuvvet, cisimlerin ..... değiştirebilir.
- Kuvvet hareket halindeki cisimlerin ..... değiştirebilir.
- Bir cismin hareket yönüne ..... yönde kuvvet uygulanırsa cisim yavaşlar.
- Bir cisme hareket yönüyle ..... yönde kuvvet uygulanırsa cisim hızlanır.

Yukarıdaki cümlelerde boş bırakılan yerlere sırasıyla aşağıdaki sözcüklerden hangileri yazılmalıdır?

- A) Şeklini - yönünü - aynı - zıt  
 B) Şeklini - yönünü - zıt - aynı  
 C) Yönünü - şeklini - aynı - zıt  
 D) Şeklini - zıt - yönünü - aynı

4

Bu fesfte 10 soru vardır.  
Cevaplarınızı cevap kağıdının Sosyal Bilgiler Testi bölümüne işaretleyiniz.

B

## SOSYAL BİLGİLER TESTİ

1. Aşağıda Milli Mücadele kahramanlarımız hakkında bilgiler verilmiştir.

- Fransız askerlerinin Maraş'ı işgal etmesi üzerine düşmana karşı büyük kahramanlıklar göstermiştir.
- Millî Mücadele'de Doğu Cephesi komutanı olarak büyük kahramanlıklar göstermiştir.
- Millî Mücadele Dönemi'nde zorlu kış şartlarında Kastamonu'ya kağıyla cephaneye taşırken donarak şehit olmuştur.
- Millî Mücadele'de Batı Cephesi komutanı olarak düzenli ordunun ilk zaferini kazanmasını sağlamıştır.

Buna göre yukarıda verilen bilgilerden hangisi aşağıdaki milli kahramanlarımızdan birisi ile ilgili **değildir**?

- A) İsmet İnönü
- B) Sütçü İmam
- C) Kazım Karabekir
- D) Tayyar Rahime Hanım

2. Aşağıda Senem'in hayatındaki bazı olaylar karışık olarak verilmiştir.

1 1 yaşında yürümeye başladım.

2 Üçüncü sınıfta bisiklet sürmeyi öğrendim.

3 2016 yılında birinci sınıfa başladım.

4 5 aylıkken ilk dişimi çıkardım.

5 2009 yılında İstanbul'da doğdum.

Buna göre Senem'in hayatına ilişkin olaylar kronolojik sıraya konulursa sıralama aşağıdakilerden hangisi gibi olur?

A) 5-4-3-1-2

B) 1-5-4-3-2

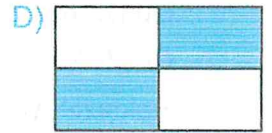


C) 5-4-1-3-2

D) 5-1-4-3-2

3. Sezgin, çocuk hakları ile ilgili doğru bilgilerin bulunduğu kutuları mavi renge boyamıştır.

Çocukların beslenmesi, güvence altına alınmış haklardandır.	Çocukların eğitim görmek yerine çalışmasında bir sakınca yoktur.
Bir konu hakkında çocukların fikirlerini belirtmelerine gerek yoktur.	Çocuklar doğduğunda vatandaşlık ve isim hakkına sahip olurlar.





Buna göre Sezgin aşağıdaki şekillerin hangisini elde eder?



- 4.

Bilgiler	D	Y
Krokiler bir yeri tarif etmemizi kolaylaştırır.	✓	
Krokilerde gerçek uzunlukların ne kadar küçültüldüğü belli değildir.		✓
Krokilerde park, okul ve hastane gibi önemli yerler gösterilir.	✓	
Krokilerde çizimi yapılacak yerde görülen her şeyin çizilmesi gerekir.		✓

Yukarıdaki doğru (D), yanlış (Y) tablosunun hangi renkteki satırında hatalı bir işaretleme yapılmıştır?



5. Eski saç kurutma makineleri elimize alıp kullanamayacağımız kadar ağırdı. Ayrıca üflenen havanın ısını ve şiddetini ayarlama imkânı da sınırlıydı. Günümüzde kullandığımız saç kurutma makinelerinde havanın ısını ve şiddetini ayarlayabiliyoruz. Ayrıca bu makineler hafif ve taşınabilir hâle gelmiştir. Teknolojik ürünler gün geçtikçe değişmeye devam etmektedir.

Yukarıda verilen açıklamaya göre aşağıdakilerden hangisi **söylenemez**?

- A) Eski saç kurutma makineleri çok az özelliklere sahipti.  
 B) Teknolojik ürünler devamlı olarak değişmekte ve gelişmektedir.  
 C) Günümüzde kullanılan saç kurutma makineleri daha kullanışlıdır.  
 D) İlk saç kurutma makineleri çok rahat bir şekilde taşınabiliyordu.

4

Bu fesfte 5 soru vardır.  
Cevaplarınızı cevap kağıdının Din Kültürü ve Ahlak Bilgisi Testi bölümüne işaretleyiniz.

B

**DİN KÜLTÜRÜ VE AHLAK BİLGİSİ TESTİ**

1. Mekkeli müşrikler ölümden sonra dirilmeye, cennet ve cehennemın varlığına inanmazlardı. Tek düşünceleri daha çok kazanmak ve dünyanın gelip geçici zevkleriyle oyalanmaktı. Böyle olunca da toplumda haksızlıklar, zulümler ve günahlar son derece yaygınlaşmıştı. İçki içmek, kumar oynamak, hırsızlık yapmak, insanların mallarını gasp etmek sıradan davranışlar halini almıştı.

**Buna göre Mekkeli müşrikler için aşağıdakilerden hangisi söylenemez?**

- A) Ahirete iman etmektedirler.  
B) Dünya malını çok sevmektedirler.  
C) Çeşitli kötü alışkanlıklara sahiptirler.  
D) Haksızlık yapmayı normal davranışlardan sayarlar.
2. Peygamberimizin amcası onun hayatında önemli bir yere sahiptir. Dedesinin vefatından sonra Hz. Muhammed'in (s.a.v.) bakımını ve korumasını üstlenen amca, yeğeni Hz. Muhammed'i (s.a.v.) çok severdi. Onu kendi çocuğu gibi büyüttü. İlgi ve şefkatini ondan esirgemedi. Ona her zaman destek oldu ve yardım etti. Hz. Peygamber de amcasına karşı daima saygı ve sevgi gösterdi.

**Yukarıda Hz. Muhammed'in (s.a.v.) hangi aile büyüğü hakkında bilgi verilmektedir?**

- A) Abdullah  
B) Abdulmuttalip  
C) Ebu Talip  
D) Ebu Bekir



3. Sınavım olduğu için çok heyecanlıydım. Bu sınavdan çok iyi bir puan alacağıma o kadar emindim ki bir an önce olması için sabırsızlıkla bekliyordum. Heyecanımı gören babam: "Hayırdır bu heyecanına sebep olan şey nedir?" diye sordu. "Yarınki sınavdan çok başarılı olacağıma inanıyorum. O yüzden bir an önce yarın olmasını bekliyorum." deyince, babam "Böyle durumlarda öncelikle inşallah demelisin yavrum." diyerek beni uyardı.

**Bu hikaye de babanın çocuğuna vurgulamak istediği şey aşağıdakilerden hangisidir?**

- A) Allah izin verirse
- B) Allah kolaylık versin
- C) Allah zihin açıklığı versin
- D) Allah'a şükürler olsun

4. "... Hiçbir ümmet (toplum) yoktur ki, aralarında bir uyarıcı gelip geçmiş olmasın." (Fâtır suresi, 24. ayet.)

**Bu ayetle aşağıdakilerden hangisine vurgu yapılmıştır?**

- A) İnsanlar birbirlerini uyarmışlardır.
- B) Allah her topluma bir peygamber göndermiştir.
- C) İnsanlar bazı konularda bilgi sahibi olmuşlardır.
- D) Peygamberler insanları uyarmak için gönderilmişlerdir.

5. Bu surede:

- Yüce Allah'a hamd edilmesinden,
- Allah'ın (c.c.) tek olduğundan,
- Sadece Allah'a (c.c.) ibadet edileceğinden
- Sadece O'ndan yardım istenileceğinden bahsedilir.

**Yukarıda hakkında bilgi verilen sure aşağıdakilerden hangisidir?**

- A) İhlas suresi
- B) Kevser suresi
- C) Subhaneke duası
- D) Fatıha suresi

4

Bu fesfte 10 soru vardır.  
Cevaplarınızı cevap kağıdının Genel Yetenek Testi bölümüne işaretleyiniz.

B

## GENEL YETENEK TESTİ

1. OVA - ? - LİMAN - MANTIK

Soru işareti yerine aşağıdakilerden hangisi gelmelidir?

- A) OKLAVA
- B) VALİ
- C) KOVA
- D) GEMİ

2. ■◆ = ▲  
▲◆ = ▼  
▲▲ = ●  
■◆▲ = ?

Soru işareti yerine hangisi gelmelidir?

- A) ▲
- B) ▼
- C) ●
- D) ■

3. "ANSİYAH" kelimesi ile aşağıdakilerden hangisi arasında benzerlik yoktur?

- A) BEMAK
- B) AGİZ
- C) YAHİSSE
- D) KAYAL

4. EMİN → MİNE kelimeleri arasındaki ilişkinin benzeri aşağıdakilerin hangisinde kurulamaz?

- A) ELEK
- B) ASIR
- C) ASIK
- D) KAYA

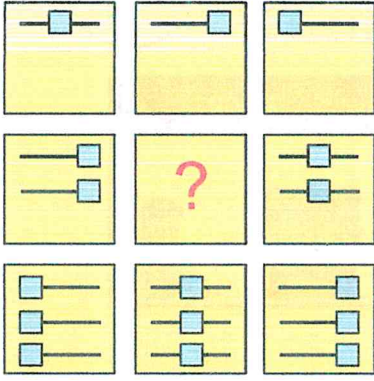
5. 5 makine, 5 dakikada, 5 düğme üretiyorsa, 100 makine 100 düğmeyi kaç dakikada üretir?

- A) 5
- B) 10
- C) 50
- D) 100

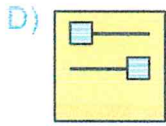
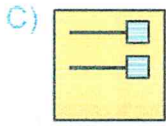
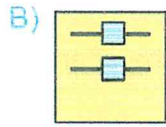
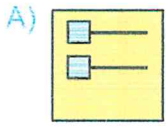
6. O - Ş - M - ? - M - H - T - A - E - E - K - A örüntüsünde ? yerine aşağıdakilerden hangisi yazılmalıdır?

- A) A
- B) N
- C) B
- D) K


7.



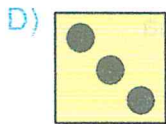
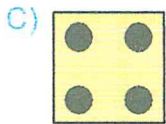
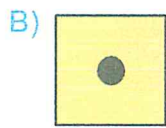

Soru işareti yerine hangisi gelmelidir?




8.



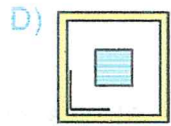
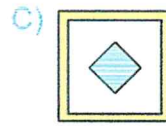
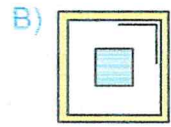
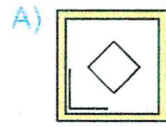
Soru işareti yerine hangisi gelmelidir?




9.







Soru işareti yerine hangisi gelmelidir?



10.



Soru işareti yerine hangisi gelmelidir?







4

Bu testte 5 soru vardır.

Cevaplarınızı cevap kağıdının İngilizce Testi bölümüne işaretleyiniz.

B

## İNGİLİZCE TESTİ

10.00	12.00	15.00	20.00
			

Tabloya göre aşağıdakilerden hangisi doğru **DEĞİLDİR**?

- A) I go to bed and sleep at ten o'clock in the morning.  
 B) I have lunch at twelve o'clock in the afternoon.  
 C) I go to park and play there at three o'clock in the afternoon.  
 D) I watch TV at eight o'clock in the evening.


2. Mr. Black writes some numbers on the board and his students say the numbers. Here are the numbers and their answers:

Jack : Eighteen, twenty-two, thirty-five, forty-eight

Jane : Eighteen, twenty-three, thirty-six, forty-nine

Tom : Eighteen, twenty-three, thirty-five, forty-nine

Tina : Sixteen, twenty-two, thirty-six, forty-eight

Yukarıdaki bilgilere göre kim **DOĞRU** cevabı vermiştir?

- A) Jake                                      B) Jane                                      C) Tom                                      D) Tina

3. • Her balloon is red.  
 • Her hair is dark brown.  
 • Her shoes are green.  
 • Her hat is red and blue.  
 • Her name is Lisa.




Lisa

Yukarıdaki resme göre verilen bilgilerden kaç tanesi doğrudur?

- A) 2                                      B) 3                                      C) 4                                      D) 5

4.



Mary'nin söylediklerine göre suçlu kimdir?

A)



B)




C)



D)



5.



Hangisi yukarıdaki konuşmayı **TAMAMLAMAZ**?

- A) Where do you work?
- B) What is your job?
- C) What do you like?
- D) What is your name?